

新北市立新泰國民中學 113 學年度第二學期 九年級 社會科-公民 補考題庫

班級：_____ 座號：_____ 姓名：_____ 序號：_____

一、單一選擇題

1.() **C** 根據下圖所述，可知資訊科技對人類現代生活帶來何種影響？

- (A) 休閒生活日益多樣
- (B) 經濟活動跨越國界
- (C) 人際互動模式改變
- (D) 科技造成人際疏離。



2.() **D** 阿神為學校校慶創作一首歌並拍攝 MV，同學們針對著作權的保障給予他提醒。下列何者最正確？

任何人使用你的音樂，你都可以向他收取著作權利金。

必須在期限內提出申請，才能享有著作權的保障。

既然是為學校創作的歌曲，著作權即歸屬於學校。

著作財產權保障期間是著作完成到著作人死後的50年。

- (A) (B) (C) (D)

3.() **A** 某小吃店在營業時，播放網路影音平臺的音樂，碰巧來店用餐的音樂公司員工聽到，故提告店家侵害著作權，因為著作權法規定，公開播放他人著作，必須取得授權。最後雙方透過調解，音樂公司便撤回告訴。有關於此事件的法律分析，以下何者正確？

- (A) 小吃店的行為侵犯音樂公司的著作財產權
- (B) 音樂公司撤告代表小吃店行為屬於合理使用
- (C) 調解具強制性，當事人對調解方案若不滿意仍要接受
- (D) 著作權法屬民法範疇，並無刑責的規定，所以可以調解。

4.() **C** 新聞報導：「時下流行的通訊軟體如 LINE、Messenger 等，使得交流更加方便快速，卻也因此成為詐騙集團的犯罪工具。專家提醒，應隨時保持警覺，接到訊息時謹慎應變、小心求證，並定期更新密碼，以降低帳號被盜用的風險，才能享受科技帶來的便利。」根據文中內容，下列何者最可能為本則新聞的標題？

- (A) 最新詐騙手法大解密
- (B) 密碼數字加英文，帳密強盜沒得聞
- (C) 善用通訊軟體，持善除惡 SO EASY
- (D) 通訊軟體百百款，你跟上流行了嗎

5.() **D** 請閱讀下列短文並回答問題

著作權法第 1 條：「為保障著作人著作權益，調和社會公共利益，促進國家文化發展，特制定本法。」為了在保障創作者權利與資訊共享之間達到平衡，因此，著作權法允許利用人未經授權，在一定的範圍內「合理使用」他人著作，而不構成對「著作財產權」的侵害。

根據著作權法第 1 條的立法目的判斷，下列哪一位同學的說法最能完整表達出該法條的意義？

該法讓資訊得以公開自由流通，促進國家文化發展。

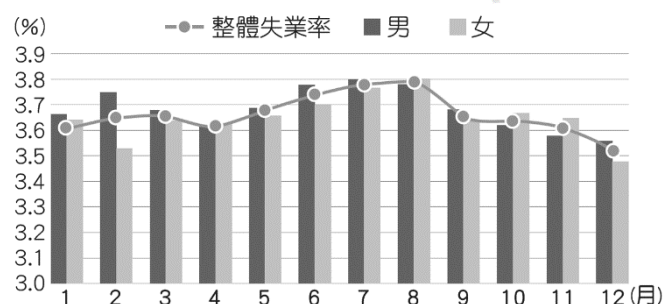
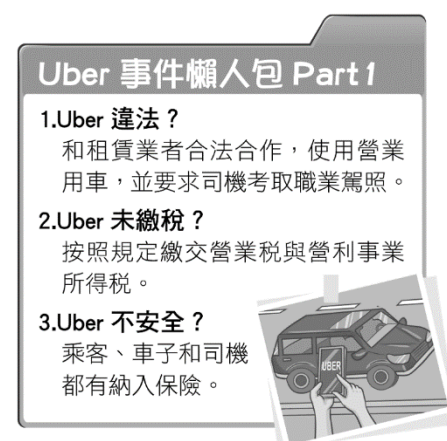
該法保護著作權人的創作心血，讓著作權人對於創作更有動力。

該法保護著作權人的經濟利益，讓著作權人得以透過創作獲得報酬。

該法保護著作權人的利益，也允許利用人於合理使用的範圍內使用他人著作。

- (A) 小希 (B) 阿香 (C) 陳凱 (D) 阿讚

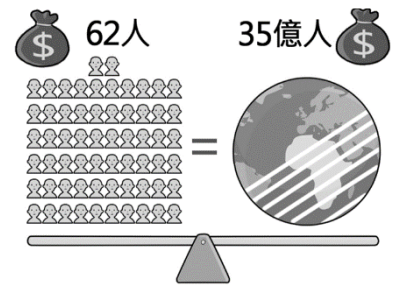
- 6.() **A** 紐約時報與紐約客雜誌因揭發好萊塢「金牌製作人」溫斯坦性侵女明星與女性工作人員的醜聞，促成網路上掀起「#我也是」(#MeToo)運動，贏得新聞界最高殊榮普立茲獎。上述事件顯示媒體主要發揮了何項功能與角色？
- (A)提供訊息、形成民意
(B)揭發事實、審判犯人
(C)報導真相、監督政府
(D)監督政府、修正法律。
- 7.() **D** 某新聞臺及其網站原以「菲勞在臺破 10 萬，民憂影響生活品質」為標題，敘述移工來臺增加的趨勢。該標題被網友們認為不妥，並向國家通訊傳播委員會(NCC)檢舉後，新聞臺才將標題改為「來臺人數劇增，菲律賓勞工破 10 萬」。針對上述報導內容分析，可以發現該新聞臺的何項缺失？
- (A)媒體的報導未反映真實狀況
(B)閱聽人預設立場而評論偏頗
(C)為促使商業考量而選擇立場
(D)加深族群的刻板印象及偏見。
- 8.() **B** 附圖是老師介紹媒體識讀時使用的簡報，若圖中的兩個人分別代表兩個不同的媒體，則下列何者最可以彰顯此圖在媒體識讀的意義？
- (A)媒體皆有各自的立場，因此無須去相信任何媒體
(B)因所處角度不同，不同媒體對同一事件解讀不同
(C)媒體報導出來的事實真相，通常符合現實的真相
(D)閱聽人所認知的主觀真實，可能與媒體真實相同。
- 9.() **C** 「懶人包」是指網路上有人將一系列的事件整理成簡要的版本，說明原因、經過與結果，以利未即時參與的民眾了解事件的始末。下圖是交通部修法影響 Uber 事件懶人包的一部分，從媒體識讀的角度分析懶人包的製作，下列說明何者正確？
- (A)懶人包的資料可讓閱聽人認識事件的真相
(B)此懶人包的製作者應是交通部，具公信力
(C)懶人包的製作扮演了設定議題的公共角色
(D)閱讀懶人包可提升閱聽人的媒體識讀能力。
- 10.() **C** 下圖為我國西元 2022 年 1~12 月間的失業率變化，根據該圖的數據變化，下列各選項的說明何者屬於「事實」？
- (A)推估我國失業人口呈現增加趨勢
(B)研判我國的經濟成長將逐漸趨緩
(C)失業率 3.79% 為 2022 年的最高點
(D)男性的失業率可能高於女性失業率。
- 11.() **D** 新聞節目針對某選美小姐做專題報導，該選美小姐在看完報導後認為內容有誤，造成她的困擾。律師告訴選美小姐，其實她有權要求該節目給予答辯的機會，且電視臺不得拒絕。下面四位同學針對此事進行討論，何者最符合此律師的建議？



- (A) 公民享有接受媒體採訪與否的自由。 (B) 媒體工作者有報導社會事件的自由。 (C) 媒體經營者有選擇報導內容的權利。 (D) 大眾享有公平接近使用媒體的權利。
- 小芬 小湘 小萍 小慈

12.() **B** 右圖為阿倫在一篇新聞報導中看到的資料。根據圖中內容判斷，本篇新聞的主題可能與下列何項概念最直接相關？


- (A)高齡社會形成原因
- (B)全球貧富差距拉大
- (C)勞動人權侵害問題
- (D)新興家庭型態產生



13.() **C** 近年來，臺灣民眾熱愛看日本、南韓的連續劇，不管是飲食、服飾、日常用語等方面，都可明顯發現受到日、韓文化的影響。隨著文化交流頻繁，本土文化傳承與文化創新也愈來愈被重視，促使我國社會呈現更多元的文化風貌。下列敘述何者最能解釋上述現象？

- (A)臺灣文化將隨著全球化逐漸凋零
- (B)臺灣文化逐漸成為世界主流文化
- (C)呈現文化跨越國界相互影響情形
- (D)全球化導致各地文化漸趨於一致


14.() **B** 公民老師請同學舉例生活中可觀察的全球化現象，下列哪些同學的說明較為適切？




建博：蘋果企業布局全球，在世界各地設有子公司，並透過視訊方式開會，讓公司運作更有效率。



明華：佳君自行攀登玉山，可以一次欣賞副熱帶與暖溫帶的闊葉林、混合林及針葉林等豐富林相。



瑞浩：琪琪在士林夜市可以吃到淡水魚丸、深坑臭豆腐、臺南鱔魚意麵和宜蘭三星蔥餅等各地美食。



佳君：大學生小華計畫在暑假透過便捷的交通工具，遊覽東南亞十國，在短時間內體驗異國風情。

- (A) 建博、明華 (B)建博、佳君 (C)明華、瑞浩 (D)瑞浩、佳君

15.() **B** 小東同學針對「國際社會」主題進行報告，部分報告內容如右列所示。下列哪一個最可能為小東報告內容中所提到的互動方式？

- (A)國際合作
- (B)國際交流
- (C)國際援助
- (D)國際衝突。

……不同國家透過政府或民間團體的力量，進行經濟貿易、學術、藝文、體育等活動的交流往來，藉此提升各國在不同領域上的學習與進步。……

16.() **B** Greenpeace 綠色和平 臺灣官網寫道：「……綠色和平存在，因為脆弱的地球需要改變、需要行動。唯有結合您的力量，才能夠讓地球變得更綠色、更和平。……」從上文內容推論，下列何者最可能是該組織在官網呈現上述內容的目的？

- (A)說明以非暴力的方式解決國際衝突才能促進和平
- (B)號召更多民眾投入活動以落實該國際組織的理想
- (C)指出透過政府間的團結才能解決全球面臨的困境
- (D)解釋其主要工作在於解決特定區域內面臨的危機。

17.() **D** 下列是阿緯進行「我國與世界衛生組織互動關係」報告時的簡報內容，根據簡報內容判斷，下列哪一項因素導致我國面臨參與國際社會的困境？

- (A)我國長期實施戒嚴
- (B)我國與鄰近友邦關係交惡
- (C)我國以低價產品銷售到世界各個國家
- (D)中華人民共和國取代我國在聯合國的地位。

世界衛生大會(WHA)是世界衛生組織(WHO)的最高權力機構，每年 5 月在瑞士 日內瓦召開。自西元 2009 年起，世界衛生組織邀請我國以「中華臺北」的名稱獲取觀察員資格，出席世界衛生大會，此為我國自退出聯合國後，首度參加聯合國所屬機構的會議。直到西元 2017 年，我國受政治因素的影響，即未能繼續獲邀參與該屆大會。

- 18.() **C** 「臺灣是世界盃足球賽的球衣製造商，這件具綠色概念的球衣，是由回收寶特瓶製成的纖維和布料所生產出來，平均每 8 個寶特瓶可製成 1 件球衣，不僅顯示臺灣紡織技術的優勢，也見證我國對環境保護、節能減碳的承諾，獲得國際肯定。」根據文中內容判斷，臺灣是透過何種方式參與國際社會？
(A) 提供國際援助 (B) 加入國際組織 (C) 善盡國際責任 (D) 簽署國際公約。
- 19.() **C** 小豆和小助一起吃飯，中途上廁所時手機放在桌上忘了鎖螢幕，回到座位卻發現手機被小助滑開來看照片，心裡相當不開心。他上網查相關法律，希望知道小助的行為是否觸法，以下何者會是小豆查到的答案？
(A) 無觸法，因目前無相關法律可適用
(B) 無觸法，因小豆不小心忘了鎖螢幕
(C) 有觸法，小助的行為違反「妨害電腦使用罪」
(D) 有觸法，小助偷看照片侵犯小豆的智慧財產權。
- 20.() **B** 邱老師在公民與社會的課程中要求學生針對著作權法立法的内容進行分組探究，哪一組所提出的探究結果最適合用來解釋《著作權法》的立法目的？
(A) 讓所有創作品成為國家資產
(B) 促進整體社會的進步與發展
(C) 使創作人獨占其辛勞的成果
(D) 使有形的智慧財產獲得保障。
- 21.() **D** 針對下圖對話所出現的狀況，下列說明何者最恰當？
(A) 資訊科技發達促成網路社群的盛行，改變人們互動方式
(B) 網路詐欺事件不斷，應提升民眾的道德意識及資訊倫理
(C) 科技運用帶來許多負面效果，只能減緩經濟發展的脚步
(D) 科技引發對個人權益的侵害，有時須藉由法律加以規範。
- 22.() **C** 行政院國發會創設公共政策網路參與平臺，讓民眾可以透過網路連署，影響政府政策。請問：下列何者最有可能是政府設置此平臺的目的？
(A) 網路討論公共議題增加資訊傳送的成本
(B) 年輕族群過度依賴網路，產生人際疏離
(C) 網路討論公共議題，提升參與的便利性
(D) 各族群的意見因此獲得平等的參與機會。
- 23.() **C** 阿文在網路上看到下列的一則新聞，根據新聞內容判斷，下列各項針對媒體與社群網路的描述，何者正確？
(A) 此事件顯示了媒體的立場偏頗的問題
(B) 亞馬孫森林的火災是一種意見的陳述
(C) 此新聞發揮媒體提供訊息的公共角色
(D) 此新聞屬於事實評論故不需加以查證。
- 24.() **C** 經濟的全球化促使跨境人口與貨物頻繁流動，無形間加速西元 2020 年新冠肺炎(COVID-19)疫情的跨國擴散。另一方面，資訊的全球化促使各國能透過國際組織平臺多方交流資訊，掌握病毒特性，並成功研發疫苗。根據上述內容判斷，下列哪一個標題最能闡釋上文所要傳達的主要意旨？
(A) 疫苗成功抑制病毒 (B) 國際組織取代國家 (C) 全球化下的利與弊 (D) 生態環境嚴重破壞
- 25.() **D** 全球暖化日益嚴重，近年南極研究站測量出南極大陸最新高溫紀錄達 18.3℃。世界氣象組織(World Meteorological Organization)成員表示：「這是南極暖化速度比全球平均快的證據。」因此，世界許多國家積極商討如何應對暖化情況，甚至共同簽署協議，達成減少溫室氣體排放的共識。根據上述內容判斷，下列推論何者較為適當？
(A) 目前尚無任何全球暖化實際證據，故不須採取任何方式因應
(B) 該組織研究顯示，觀光客的激增是造成南極冰融加快的主因
(C) 政治全球化無助緩解跨國氣候問題，僅能祈禱地球自行調節
(D) 全球面臨暖化危機，透過國際間的合作或可延緩暖化的趨勢。



亞馬孫森林每年都會有森林火災，日前有一則「亞馬孫森林已燒了三週」的報導，搭配許多動物倉皇逃走與受傷的照片，震撼了全球並迅速傳播，讓許多人了解事情的嚴重性。然而，經查證該照片內容皆非這次火災的景象，而是過去在世界各地所拍下的照片。

- 26.() **B** 臺灣公平貿易推廣協會與臺北市政府於迪化街 永樂廣場舉辦「公平貿易生活節」，倡導在消費過程中達到「友善消費者、友善生產者、友善環境」的理念，呼籲消費者多購買右列「公平貿易認證」的產品，以幫助世界上的弱勢勞工脫困。上述「公平貿易認證」所代表的意義為何？
- (A)致力於確保每個國家都能販賣咖啡，促進咖啡平等貿易管道的暢通
- (B)重視勞動人權，幫助原料提供者的發展，並使其得到較合理的報酬
- (C)表示該產品原料符合優良食品標準，也是眾多產品中價格較低廉者
- (D)具認證產品代表與北市府有直接合作，凡臺北市民購買將享有優惠。



- 27.() **B** 「我國友邦海地發生規模 7.2 強震，造成多人死亡，強震過後又連日下雨，瀕臨崩潰邊緣，許多民眾搭帳篷避難，沒有食物和乾淨的水可食用，世界各國紛紛伸出援手，送食物和醫療資源到海地，我國也迅速提供救援物資。」根據上文判斷，下列何者的國際互動方式與上文最貼近？

📖 苗栗慢魚運動：此運動參考自發源地義大利，串聯苗栗縣的沿海資源，發展在地觀光特色，以建立與海洋共生共榮的理念。

- (A)我國與牙買加簽署合作備忘錄，以共同提升國際技能的發展
- (B)賽普勒斯的消防人員加入協助撲滅希臘嚴重森林火災的行列
- (C)阿富汗首都喀布爾國際機場遭炸彈攻擊，造成美軍大量死傷
- (D)苗栗縣政府參與國際活動展現苗栗慢魚運動特色文化與成果。

- 28.() **C** 下列是媒體針對我國伊甸基金會與國際反地雷組織(ICBL)合作，進行「東南亞國家的反地雷運動及研究培力計畫」報導的部分內容。根據上文與報導內容判斷，最適合說明下列何項概念？

- (A)參與國際社會有賴政府的努力
- (B)伊甸基金會為政府的國際組織
- (C)透過民間力量可以積極參與國際社會
- (D)中低度開發國家應如何突破發展困境

我國伊甸基金會首次招募臺灣青年志工，前往越南、緬甸等地，進行 2 至 3 個月的志工服務，協助雷傷者，透過公民社會的交流與志工的服務，深化臺灣與東南亞國家民間的合作，並藉由網路公民的力量，以影片拍攝或文字紀錄方式，幫助東南亞國家的雷傷者發聲，希望志工能代表臺灣，讓全世界了解人道救援的重要。