

# 新北市立新泰國民中學 113 學年度第二學期 九年級 社會科-地理補考題庫

一、 選擇題 班級：\_\_\_\_\_座號：\_\_\_\_\_姓名：\_\_\_\_\_

1.( ) 關於日本列島與朝鮮半島的環境特徵，下列哪一個項目錯誤？

地區	(A)海陸位置	(B)降水季節	(C)年溫差	(D)一月月均溫
日本列島	四面環海	四季平均	較小	全區皆大於 0℃
朝鮮半島	三面環海，一側銜接亞洲大陸	集中夏季	較大	全區皆小於 0℃

2.( ) 依琳到墾丁旅遊，從地圖上觀察到臺灣南端的巴士海峽和下列哪一個國家相望，距離不遠？

(A) 新加坡 (B) 菲律賓 (C) 馬來西亞 (D) 越南

3.( ) 臺灣經濟在面臨轉型時，下列哪一個地區具有低廉勞力及豐富資源等因素，吸引大量臺商前往投資？(A) 東北亞 (B) 東南亞 (C) 西亞 (D) 北非

4.( ) 曉明觀察中南半島的山河分布，發現當地地形的分布特色和中國哪一個地形區最為相近？(A) 東南丘陵 (B) 雲貴高原 (C) 橫斷山脈 (D) 喜馬拉雅山

5.( ) 每年的 6 至 10 月為印度的雨季，氣候溼熱多雨，為當地重要的農業耕作季節。請問：該地區雨季最主要是下列哪一個季風風向所帶來的水氣？(A) 東北季風 (B) 西北季風 (C) 東南季風 (D) 西南季風。

6.( ) 印度半島的地形區可分為：(甲)喜馬拉雅山(乙)德干高原(丙)印度大平原。若由北向南排列，其正確順序為何？(A) 甲乙丙 (B) 甲丙乙 (C) 乙甲丙 (D) 丙乙甲

7.( ) 地震災害常發生於板塊活動頻繁的地區，突如其來的天災常造成重大傷亡。根據外電報導，南亞發生了大規模的地震災害，造成嚴重的生命與財產損失。請問：該地震最可能發生於下列何處？(A) 珊瑚礁群島 (B) 中部平原 (C) 南部高原 (D) 北部山地

8.( ) 印度哪一個都市因為軟體工業相當發達，因此被稱為「印度矽谷」？(A) 孟買 (B) 新德里 (C) 邦加羅爾 (D) 加爾各答。

9.( ) 因為故鄉的文化與中國相近，阿水來到臺灣擔任看護的工作，適應相當良好。由於她聰明勤勞，很快學會中文，再加上故鄉過去的被殖民經驗，使得她還會說一些法文，她的雇主對她相當滿意，把她當作女兒般疼愛。阿水的故鄉可能位於下列哪一國？(A) 印尼 (B) 印度 (C) 菲律賓 (D) 越南

10.( ) 東南亞的氣候依其地理位置的不同，主要分為下列哪兩種氣候類型？(甲)熱帶雨林氣候(乙)熱帶莽原氣候(丙)熱帶季風氣候(丁)熱帶沙漠氣候 (A) 甲乙 (B) 甲丙 (C) 乙丁 (D) 丙丁。

11.( ) 南亞因喜馬拉雅山冬季阻擋了下列哪一個季風風向，因此形成涼爽宜人的氣候特色？(A) 東北季風 (B) 西北季風 (C) 東南季風 (D) 西南季風。

12.( ) 印度半島南端的馬爾地夫群島為著名的度假勝地，該地區最可能為下列何種性質的島群？(A) 大陸島 (B) 火山島 (C) 陸連島 (D) 珊瑚礁島。

13.( ) 萌萌暑假到印尼的峇里島度假，參觀當地最著名的布沙基寺，欣賞其秀麗的建築特色。請問：峇里島地區主要的宗教信仰為下列何者？(A) 印度教 (B) 佛教 (C) 伊斯蘭教 (D) 基督教。

14.( ) 熱帶栽培業為東南亞重要的經濟活動，下列有關熱帶栽培業的特色，何者錯誤？(A) 作物以出口為主 (B) 大範圍栽種 (C) 投入大量資金 (D) 生產多種農作。

15.( ) 印度大平原從東到西種植的作物依序為：水稻與黃麻→水稻與小麥或小米輪作→小麥和小米輪作。上述現象的形成與哪一項因素關係最密切？(A) 地形差異 (B) 降水多寡 (C) 氣溫高低 (D) 距海遠近

16.( ) 臺灣缺乏自然資源能源高度仰賴進口，2022 年能源供給有 97.3% 來自進口，其中原油進口總計 2.97 億桶，最大的進口國為沙烏地阿拉伯(佔 33.9%)，第二大進口國為科威特(佔 21.2%)。請問：依照臺灣與這兩國的位置判斷，若選擇目前可行的最短海運路線，其進口路線依序會經過哪些海域？甲.紅海、乙.南海、丙.地中海、丁.印度洋、戊.蘇伊士運河、己.麻六甲海峽。(A) 丁己乙 (B) 丙己丁 (C) 甲丙丁 (D) 戊甲丙

17.( ) 附圖為阿右進行直升機空拍台灣時所拍下的美景，請問：下列哪個坐標最有可能是此照片的拍攝地點？

(A) 23.26°N, 120.11°E (B) 21.92°N, 120.84°E  
(C) 23.13°N, 121.44°E (D) 25.16°N, 121.82°E

18.( ) 濁水溪揚塵問題已存在三百多年，長期以來當地民眾飽受「呷飯拌沙」之苦，每到秋冬風沙滾滾，居民遭受沙塵所造成的空汙影響。請問：濁水

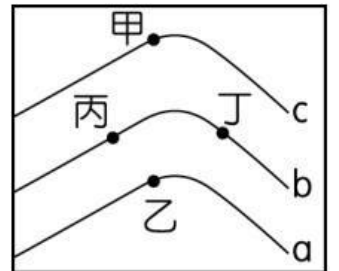


溪冬季下游揚塵的主要原因與下列何者最相關？(A) 盛行西南風，濁水溪口風力特別強大 (B) 下游土地過度利用導致沙漠化 (C) 沿海地帶大量抽取地下水，導致地層下陷泥沙淤積 (D) 秋冬雨量較少河床裸露加上強風吹拂。

- 19.( ) 附表關於臺灣四家公司產品類型、設廠位置與工業區位的配對，請問何者正確？

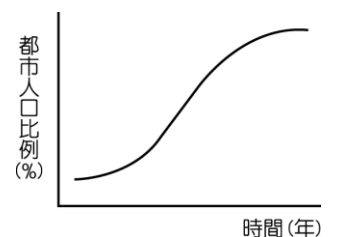
	企業	產品類型	工廠設立位置	工業區位
(A)	中油	石油、化學溶劑	高雄臨海工業區	動力
(B)	同榮	魚罐頭	宜蘭南方澳	市場
(C)	亞洲水泥	水泥	花蓮和平	原料
(D)	台積電	晶圓代工	新竹	交通

- 20.( ) 右圖為等高線地形圖，其中 a、b、c 為等高線高度，如果丙、丁剖面為向下凹的曲線，則下列何者為正確的敘述？(A) 數值  $a > b > c$  (B) 數值  $a < b < c$  (C) 數值  $a = b = c$  (D) 無法判斷

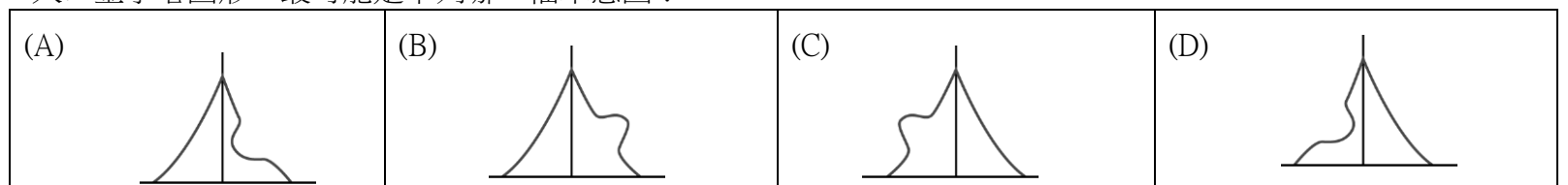


- 21.( ) 小華到琉球嶼旅遊，經由導遊帶領前往潮間帶認識豐富的海洋生態，並且介紹當地的自然環境。下列有關琉球嶼的介紹，何者正確？(A) 位於臺灣東側海面上 (B) 具有熱帶海洋生態環境 (C) 受到火山噴發作用形成 (D) 主要為崎嶇的丘陵地形。

- 22.( ) 附圖為某國都市人口占總人口比例的變化情形。根據圖中的資料最可能推得下列哪一個結論？(A) 人口的聚集程度增加 (B) 全國的人數不斷增加 (C) 貧富的差距日趨嚴重 (D) 鄉村的人口移入率高。

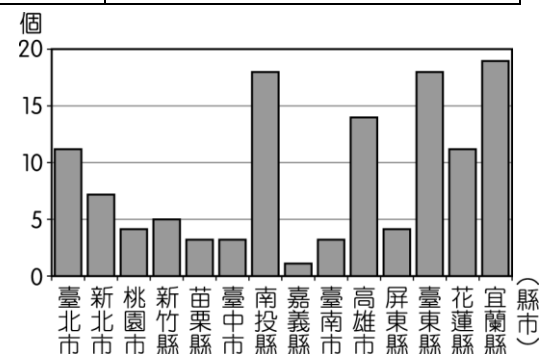


- 23.( ) 臺灣在清帝國初期受到「渡臺禁令」政策的影響，人口結構有失衡的現象。請問：當時的人口金字塔圖形，最可能是下列哪一幅示意圖？

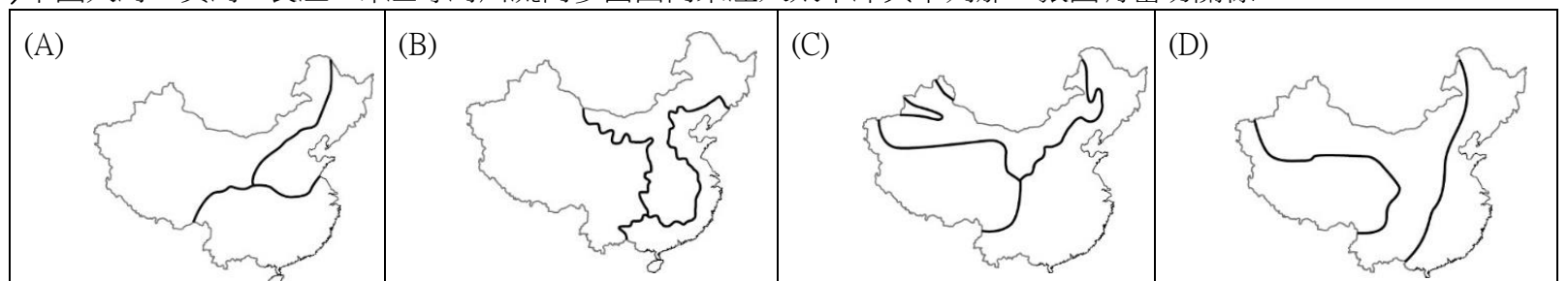


- 24.( ) 臺灣位於板塊接觸帶上，各地溫泉景點相當豐富，附圖為臺灣各縣市溫泉數量的分布圖。請問：圖中溫泉數量最多的縣市位於臺灣哪一區域？(A) 北部區域 (B) 中部區域 (C) 南部區域 (D) 東部區域。

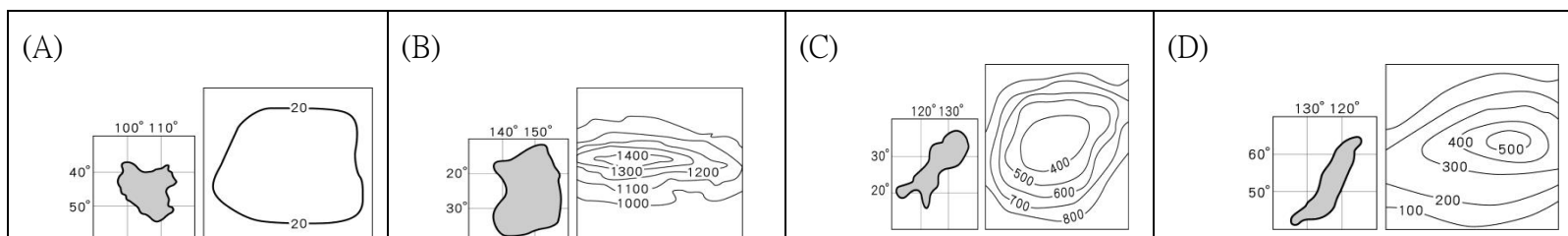
- 25.( ) (甲) 有赤道通過 (乙) 有茂密且品種繁雜的植物，樹冠高聳成層分佈 (丙) 夏秋之際有颱風侵襲 (丁) 地形以高原為主體 (戊) 沙漠面積廣大 (己) 勞力密集工業發達 (庚) 發展熱帶栽培業 (己) 季風顯著，有關上列敘述，漠南非洲與東南亞的共同特色有幾項？(A) 三項 (B) 四項 (C) 五項 (D) 六項



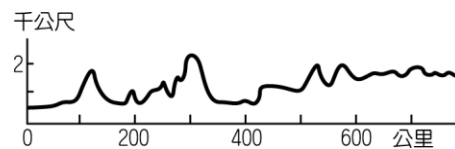
- 26.( ) 位在日本 本州西岸的金澤冬季降雨量頗多，這與下列哪一地區冬季多雨的主因相同？(A) 加拿大西岸的溫哥華秋、冬時節雨量較多 (B) 「竹風蘭雨」中的「蘭雨」 (C) 西北非摩洛哥的冬雨綿綿 (D) 剛果盆地冬季降雨豐富
- 27.( ) 季風亞洲是指受到季風氣候所影響的亞洲地區，下列哪一個地區不在季風亞洲的範圍內？(A) 東亞 (B) 西亞 (C) 東北亞 (D) 東南亞。
- 28.( ) 若麥當勞想在東南亞與南亞拓展市場，哪些國家因為伊斯蘭教徒比例較多故，不適合在當地販售豬肉滿福堡？(A) 印度、泰國、緬甸 (B) 尼泊爾、汶萊、柬埔寨 (C) 印尼、孟加拉、巴基斯坦 (D) 馬來西亞、斯里蘭卡、馬爾地夫
- 29.( ) 中國大河：黃河、長江、珠江等河川流向多由西向東注入太平洋與下列那一張圖有密切關係



- 30.( ) 下列為不同小島的緯度與主要地形資料，若僅依自然條件而論，哪一座島嶼能夠生長出最多樣的水果種類？



- 31.( ) 「旅行，就從地圖開始。首先找一張世界地圖，看看所要到的地方，先找到它的(甲)經度，了解目的地和臺灣的時差，再看(乙)緯度初步推測當地的氣候特色。接著閱讀(丙)小比例尺的街道圖，看(丁)圖名搜尋車站、公園、博物館等想要去的景點，根據(戊)方向標推測方向。最後以車站為中心，依據預定的旅遊時間，畫定一個區域，選擇旅遊景點。」以上敘述中畫線部分，正確的有幾項？(A)一項 (B)兩項 (C)三項 (D)四項
- 32.( ) 有兩架飛機在同一時間分別從甲點（30°W，60°N）、乙點（30°E，60°N）兩點向正南方飛行，並移動至 60°S。假設兩者飛行速度及高度相同，則在移動至 60°S 的過程中，它們之間的距離呈現何種變化？  
(A) 逐漸縮短 (B) 逐漸加長 (C) 先縮短再變長 (D) 先變長再縮短
- 33.( ) 右圖（六）為某一國家沿海地形剖面示意圖，▲記號為油氣蘊藏區的位置，請問位在這國家領海內的油氣蘊藏區有幾個？  
(A) 零個 (B) 一個 (C) 兩個 (D) 三個
- 34.( ) 「這塊陸地有本初經線通過，也被赤道一分为二，因此同時處在東西南北四個半球中，且該洲面積及人口數皆僅次於亞洲」，請參考右圖（七）判斷這塊陸地應為下列哪一個洲？(A) 大洋洲 (B) 歐洲 (C) 非洲 (D) 中南美洲
- 35.( ) 依琳到墾丁旅遊，從地圖上觀察到臺灣南端的巴士海峽和下列哪一個國家相望，距離不遠？(A) 新加坡 (B) 菲律賓 (C) 馬來西亞 (D) 越南
- 36.( ) 每個國家國幣的設計都有其象徵意義，通常會在鈔票面放上具有象徵意義的人物、動植物、建築或風景等。我國在西元 2000 年後更換的新鈔中，於 500 元、1,000 元、及 2,000 元鈔票的背面，分別放上「臺灣梅花鹿」、「臺灣帝雉」以及「櫻花鉤吻鮭(臺灣鮭魚)」等三種臺灣特有生物。請問：下列何者是造就臺灣特有生物眾多的原因？(A) 地形高聳，氣候多樣 (B) 屬於溫暖的副熱帶氣候 (C) 位置在歐亞大陸 與太平洋交界處 (D) 冰河期結束後形成孤島環境
- 37.( ) 建委在自我介紹時提到：「我的家在新竹縣的山上，因常幫忙父母栽種水蜜桃，讓我養成吃苦耐勞的個性。」慧真的家最有可能位在下列何處？(A) 中央山脈 (B) 雪山山脈 (C) 阿里山山脈 (D) 玉山山脈
- 38.( ) 文雯利用暑假期間騎乘單車旅行，他花了五天的時間，沿著濱海公台南縣七股區往北依順時針方向繞騎到臺東縣臺東市。請問：他所經歷的海岸類型變化，應為下列何者？(A) 斷層海岸→珊瑚礁海岸→岬灣海岸 (B) 斷層海岸→沙岸→珊瑚礁海岸 (C) 沙岸→岬灣海岸→斷層海岸 (D) 沙岸→珊瑚礁海岸→岬灣海岸
- 39.( ) 西亞與北非文化區的游牧民族大多在旱季進行水平遷徙。此區有游牧活動，主要是受到下列哪一個因素的影響？  
(A) 溫差大小 (B) 風力強弱 (C) 氣溫高低 (D) 水源分布。
- 40.( ) 2011 年位於南太平洋上國際換日線東方 32 公里的薩摩亞群島，宣布將位於群島西側的國際換日線換至東部，12 月 29 日午夜過後直接跳到 12 月 31 日，以便與其重要的貿易夥伴時間更為接近，有利於經貿往來。請問：此改變對薩摩亞帶來下列哪一個影響？(A) 時區改為國際標準時時區 (B) 薩摩亞變成北半球國家 (C) 成為全球最晚日落地區 (D) 日期與澳洲、紐西蘭同步。
- 41.( ) 臺灣北部冬季多雨，南部則夏雨集中。影響兩地降水季節分布不同的主因是什麼？(A) 緯度 (B) 風向 (C) 地形 (D) 距海遠近。
- 42.( ) 附圖是屬於哪一種地形的表示方式？  
(A) 分層設色圖 (B) 立體地形圖 (C) 等高線地形圖 (D) 地形剖面圖。
- 43.( ) 隨著交通與資訊的發達，國與國之間的往來也更加密切，因此國際性事務的協商合作就顯得更加重要。下列哪一事項是臺灣和其他國家必須共同協商處理？(A) 大西洋航運通行貨輪的載量限制 (B) 波斯灣石油輸出徵收的各項關稅 (C) 亞洲內陸國家邊境通商簽證協議 (D) 太平洋周圍海嘯預警系統的建立。
- 44.( ) 臺灣東部山明水秀，是國人休閒旅遊的好去處。請問：臺灣東部最常見到的地形為何？(A) 山地、丘陵 (B) 丘陵、



台地 (C)台地、縱谷 (D)山地、縱谷

45.( ) 17 世紀中葉，鄭成功決定以臺灣作為反清復明的基地。當時鄭成功率領部隊登陸臺灣本島，所看到海岸景觀的類型與下列何者最相似？



46.( ) 臺灣的海岸線中，在附圖中哪一地方的天然海灣眾多，最適合發展航運、捕魚等活動？

(A)甲 (B)乙 (C)丙 (D)丁。

47.( ) 海水淡化廠提供的淡水成本較水庫提供的淡水要高出許多，但臺灣部分地區仍漸建有海水淡化廠以提供當地不足的民生用水，這些海水淡化廠主要設置於何地？ (A)東部沿海 (B)北部沿海 (C)西南沿海 (D)離島

48.( ) 地表畫分為熱帶、溫帶、寒帶的主要依據為下列何者？ (A)赤道、回歸線 (B)赤道、圈 (C)本初經線、國際換日線 (D)回歸線、極圈。



1	2	3	4	5	6	7	8	9	10
D	B	B	C	D	B	D	C	D	B
11	12	13	14	15	16	17	18	19	20
A	D	A	D	B	A	A	D	C	B
21	22	23	24	25	26	27	28	29	30
B	A	C	A	A	B	B	C	D	B
31	32	33	34	35	36	37	38	39	40
C	D	B	C	B	A	B	C	D	D
41	42	43	44	45	46	47	48	49	50
B	D	D	D	C	D	C	D		